

Soluzioni

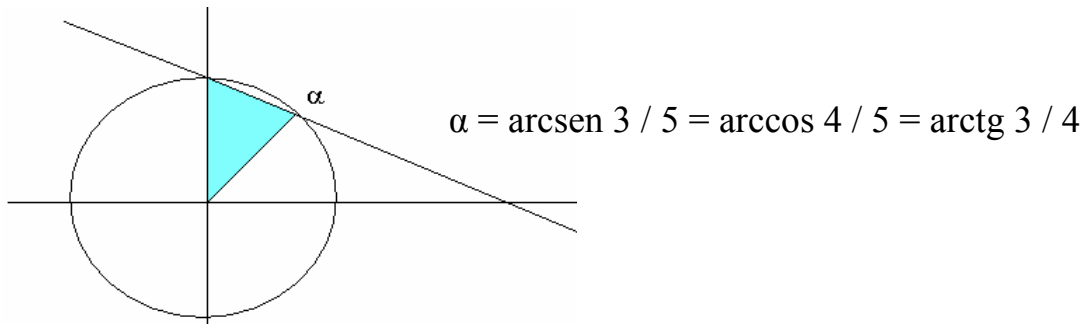
1.

(a)

Il numeratore è definito per $2 \sin x + \cos x - 2 \geq 0$; dove è definito, questo è positivo. Quindi perché sia verificata la disequazione, il denominatore deve essere > 0 . In definitiva la disequazione data equivale al sistema:

$$2 \sin x + \cos x - 2 \geq 0$$

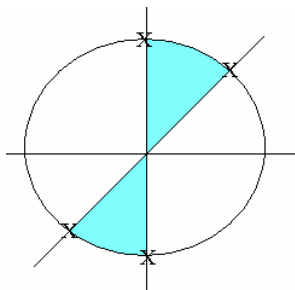
$$2Y + X - 2 \geq 0$$



$$\sin(2x - \pi/4) > \sqrt{2}/2$$

$$\pi/4 < 2x - \pi/4 < 3\pi/4 + 2k\pi \rightarrow \pi/2 < 2x < \pi + 2k\pi \rightarrow$$

$$\pi/4 < x < \pi/2 + k\pi$$



La disequazione è verificata per $\pi/4 < x < \pi/2 + 2k\pi$

Si osservi che è $\alpha < \pi/4$ poiché è $\sin \alpha = 3/5 < \sin \pi/4 = 1/\sqrt{2}$.

(b)

La disequazione è definita per $1+x \geq 0$, $x \geq 0$, cioè per $x \geq 0$.
Riscriviamola nella forma

$$\sqrt{1+x} \geq \sqrt{|2x-1|} + \sqrt{x}$$

ed eleviamo ambo i membri al quadrato; con opportune semplificazioni si ottiene:

$$\sqrt{x|2x-1|} \leq 1 - |2x-1|.$$

Deve dunque essere

$$\begin{cases} x \geq 1/2 \\ \sqrt{2x^2-x} \leq 1-x \end{cases} \quad \text{oppure} \quad \begin{cases} 0 \leq x < 1/2 \\ \sqrt{x-2x^2} \leq x \end{cases}$$

da cui

$$\begin{cases} 1/2 \leq x \leq 1 \\ 2x^2-x \leq 1-2x+x^2 \end{cases} \quad \text{oppure} \quad \begin{cases} 0 \leq x < 1/2 \\ x-2x^2 \leq x^2 \end{cases}$$

cioè

$$\begin{cases} 1/2 \leq x \leq 1 \\ x^2+x-1 \leq 0 \end{cases} \quad \text{oppure} \quad \begin{cases} 0 \leq x < 1/2 \\ 3x^2-x \geq 0 \end{cases}$$

Il primo sistema è verificato per $x \in [1/2, (\sqrt{5}-1)/2]$, il secondo per $x \in [1/3, 1/2] \cup \{0\}$.

La disequazione data è verificata per $x \in [1/3, (\sqrt{5}-1)/2] \cup \{0\}$

2.

(a) C.E.

$$\begin{cases} x > -1, x \neq 0 \\ 1/|\log(x+1)| \leq 1 \end{cases} \Leftrightarrow \begin{cases} x > -1, x \neq 0 \\ \log(x+1) \geq 1 \text{ opp. } \log(x+1) \leq -1 \end{cases} \Leftrightarrow$$

$$\begin{cases} x > -1, x \neq 0 \\ x \geq e-1 \text{ opp. } x \leq 1/e-1 \end{cases} \Leftrightarrow x \in (-1, 1/e-1] \cup [e-1, +\infty)$$

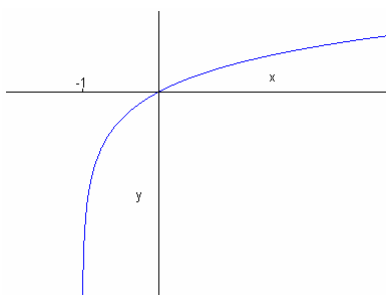
(b) SGN

La funzione arcoseno ha lo stesso segno del suo argomento ; la funzione $f(x)$ dunque non si annulla mai ed è positiva se

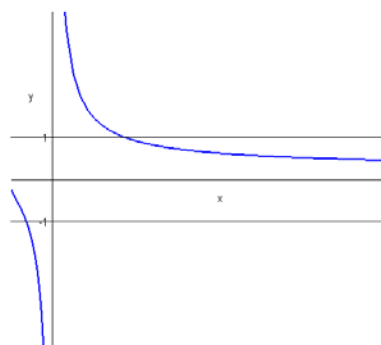
$$\begin{cases} x \in \text{C.E.} \\ 1 / \log(1+x) > 0 \end{cases} \Leftrightarrow x \in [e-1, +\infty)$$



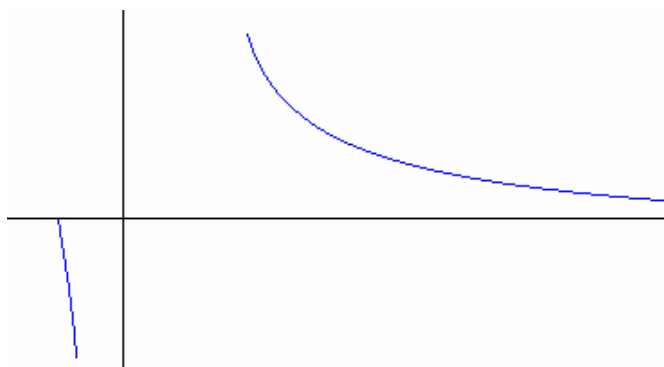
(c) GRAFICO



$$y = \log(1+x)$$



$$y = 1 / \log(1+x)$$



$$y = \text{arcsen}(1 / \log(1+x))$$

(c) Restringiamo la funzione all'intervallo $[e - 1, +\infty)$.

$$f(x) = k \Rightarrow \frac{1}{\log(x+1)} = \operatorname{sen} k, \text{ purché } -\pi/2 \leq k \leq \pi/2$$

$$\log(1+x) = 1 / \operatorname{sen} k, \text{ purché } k \neq 0$$

$$x = \exp(1 / \operatorname{sen} k) - 1.$$

La soluzione trovata è accettabile se

$$\exp(1 / \operatorname{sen} k) - 1 \geq e - 1 \Leftrightarrow 1 / \operatorname{sen} k \geq 1 \Leftrightarrow 0 < \operatorname{sen} k \leq 1 \Leftrightarrow 0 < k \leq \pi/2$$

Quindi l'immagine della funzione è $(0, \pi/2]$, la funzione è invertibile, la funzione inversa è data da $f^{-1}(k) = \exp(1 / \operatorname{sen} k) - 1$.

(d) Nell'intervallo dato $f(x)$ è decrescente: $e - 1 \leq x < y \leq \Rightarrow f(x) > f(y)$. Infatti $\log(1+x)$ è una funzione crescente, $1 / \log(1+x)$ è decrescente e l'arcoseno lascia invariata la monotonia.

$$f(x) > f(y) \Leftrightarrow 1 / \log(1+x) > 1 / \log(1+y) \Leftrightarrow (*)$$

$$\log(1+x) < \log(1+y) \Leftrightarrow x < y.$$

(*) il passaggio è lecito perché i denominatori per cui abbiamo moltiplicato sono positivi

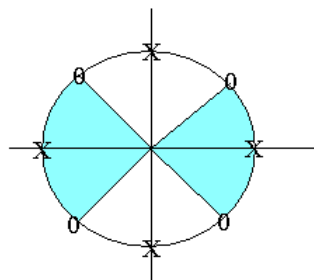
3.

(a)

La funzione è definita per $x \neq \pi/2 + k\pi, x \neq k\pi$.

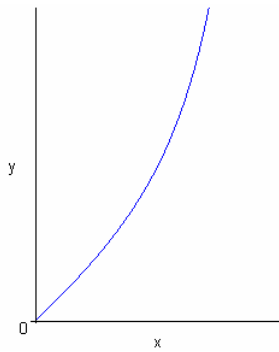
$$f(x) \geq 0 \Leftrightarrow \frac{1}{|\operatorname{tg} x|} \geq 1 \Leftrightarrow \operatorname{tg} x \neq 0, -1 \leq \operatorname{tg} x \leq 1 \frac{1}{|\operatorname{tg} x|} \geq 1 \Leftrightarrow$$

$$-\pi/4 + k\pi \leq x \leq \pi/4 + k\pi, x \neq k\pi$$

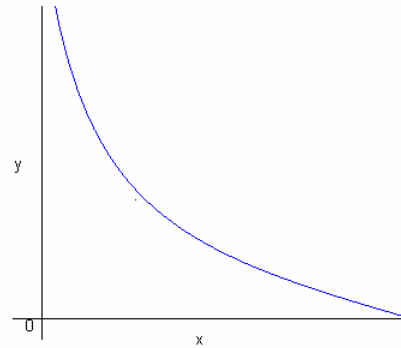


(b), (c)

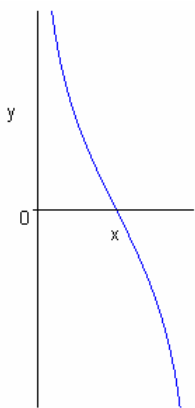
La funzione è pari e di periodo π : possiamo quindi limitarci a studiarla nell'intervallo $[0 , \pi / 2]$.



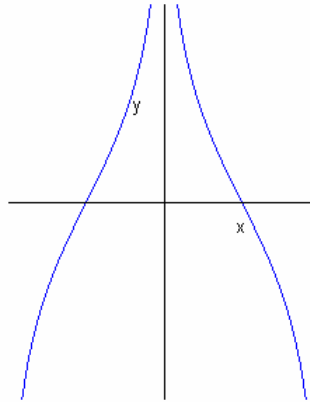
$$y = \text{tg } x$$



$$y = 1 / \text{tg } x$$

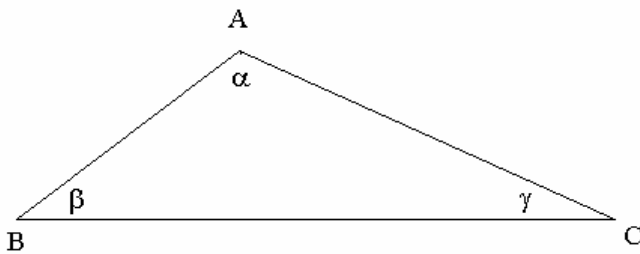


$$y = f(x) \text{ in } (0 , \pi / 2)$$



$$y = f(x) \text{ in } (- \pi / 2 , \pi / 2)$$

4.



$$\frac{16}{\sqrt{15}/4} = \frac{AC}{3\sqrt{15}/16} = \frac{AB}{\sqrt{15}/8} \quad \text{sen } \gamma = \frac{\text{tg } \gamma}{\sqrt{1 + \text{tg}^2 \gamma}} = \frac{\sqrt{15}}{8} \quad (\text{positivo, perché}$$

γ è angolo di un triangolo)

$$\cos \gamma = \sqrt{1 - \sin^2 \gamma} = \frac{7}{8} \quad (\text{positivo, perché deve avere lo stesso segno della tangente})$$

$$\sin \beta = \sqrt{1 - \cos^2 \beta} = \frac{3\sqrt{15}}{16} \quad (\text{positivo, perché } \beta \text{ è angolo di un triangolo})$$

$$\cos \alpha = \cos(\pi - \beta - \gamma) = -\cos(\beta + \gamma) = \sin \beta \sin \gamma - \cos \beta \cos \gamma = -1/4$$

(dunque il triangolo è ottusangolo)

$$\sin \alpha = \sqrt{1 - \cos^2 \alpha} = \frac{\sqrt{15}}{4} \quad (\text{necessariamente positivo})$$

Teorema dei seni :

$$\frac{16}{\sqrt{15}/4} = \frac{AC}{3\sqrt{15}/16} = \frac{AB}{\sqrt{15}/8}$$

$$AB = 8, \quad AC = 12$$

$$\text{perimetro} = 36$$

$$\text{area} = \frac{1}{2} AB AC \sin \alpha = 12\sqrt{15}.$$