

Matematica, Anno Accademico 2009-2010,

Biotechnologie

Vincenzo M. Tortorelli

RECUPERO consuntivo delle tre prove in itinere: 27 Maggio 2010

COGNOME		N. MATRICOLA	
NOME		ANNO	

ISTRUZIONI al fine della valutazione:

- compilare l'intestazione in stampatello maiuscolo
- riportare con ordine lo svolgimento della soluzione agli esercizi contrassegnati da ●;
- scrivere, nello spazio apposito all'interno della tabella sottostante, solo la risposta agli altri
- il tutto sui fogli consegnati, *gli unici* da consegnarsi.
- **NOTA 1** Per i temi 2, 7, 8 vanno date le risposte con le modalità indicate a tutti i quesiti.
- **NOTA 2** Per i temi 5, 6, 10, 12 basta svolgere **un solo** punto su due.
- **NOTA 3** per il tema 9 basta svolgere **due** punti su tre.

1		2 ab	$\sqrt{2} \cos \frac{13}{5} \pi + i (1 + \frac{4}{\sqrt{2}}) \sin \frac{13}{5} \pi$
---	--	------	---

3		4	$m = \frac{11}{2} \approx 5,5$
---	--	---	--------------------------------

5a	$\frac{(1-\sqrt{3})x + (\frac{\sqrt{3}}{2} + 1)y}{= 3\frac{1}{2} - 13\sqrt{3}}$	b	$(0, 2, -1) \frac{1}{\sqrt{5}}$	6a	784	b	$\frac{125}{1296} \approx 0,0965$
----	---	---	---------------------------------	----	-----	---	-----------------------------------

7a	Si	b	Si	c	Si	d	$0, \frac{1}{72}$	8a	$\frac{35}{2} = 17,5$	b	$Q_1 + Q_2 + Q_3 + Q_4 + Q_5 = 7 \cdot \frac{31}{32}$
----	----	---	----	---	----	---	-------------------	----	-----------------------	---	---

9a	$y = -\frac{\pi}{2}x + \frac{\pi 3}{2}$	b	$x - y + 2z = \frac{\pi}{2}$	c	$x + 2y + 2z = 6$
----	---	---	------------------------------	---	-------------------

10a		b	$1 + x + \frac{x^2}{2} + x(y-1) = 1 + \frac{x^2}{2} + xy$
-----	--	---	---

11	$-2\sqrt{x+i} e^{-\sqrt{x+i}} - 2e^{-\sqrt{x+i}} + e$	12a	$\frac{3}{56}$	b	$\frac{\pi}{27} (10^{\frac{3}{2}} - 1)$
----	---	-----	----------------	---	---

ESERCIZIO n. 1 Si tracci il grafico di $\arccos(|x| - 2)$.

ESERCIZIO n. 2 a- Si trovino le soluzioni in \mathbb{C} dell'equazione $z^2 - 2iz + i = 0$, eventualmente non esplicitando i valori di grandezze trigonometriche.

b- Si riportino le soluzioni nel piano complesso confrontando con angoli noti e usando la somma vettoriale (regola del parallelogramma).

ESERCIZIO n. 3 Si disegni l'insieme del piano cartesiano definito dalla seguente condizione sulle coordinate polari dei suoi punti $\rho = \cos \varphi$, $\rho \neq 0$.

ESERCIZIO n. 4 In figura è riportato il diagramma della funzione di ripartizione di un campione numerico. Si determinino primo ed ultimo quartile sugli effettivi, e media.

• ESERCIZIO n. 5 a- Si determini l'equazione della retta inclinata di $\frac{\pi}{3}$ in senso antiorario a partire dalla retta $x + 2y = 3$ e passante per il suo punto $(11, -4)$.

b- Si trovi un vettore di lunghezza 1 ortogonale alle rette descritte dai cammini $t \mapsto (t, t+1, 2t)$ e $t \mapsto (3t - 3, t, 2t - 2)$.

ESERCIZIO n. 6 a- In quanti modi si distribuiscono 5 caramelle a 8 bambini senza darle tutte ad uno?

b- Si lanciano 5 dadi non truccati con che probabilità si ottengono esattamente 2 sei e 1 tre?

ESERCIZIO n.7 a- Detti (X, Y) i risultati del lancio di due dadi non truccati, gli eventi $A(X \text{ pari})$, $B(Y \text{ pari})$ sono indipendenti?

b- Gli eventi $C(X+Y=3)$ ed A sono indipendenti?

c- Gli eventi C e B sono indipendenti?

d- Calcolare $P(A \text{ e } B \text{ e } C)$ e $P(A) \cdot P(B) \cdot P(C)$.

• ESERCIZIO n.8 a- Lanciando 5 volte un dado non truccato qual'è il valor medio della somma dei risultati?

b- Chiamato X_i il risultato del lancio i^o , pagando all' i^o lancio una quota Q_i si vince $\frac{X_i}{2^i - 1}$. Che condizioni vanno imposte ai numeri Q_i perchè il giuoco sia equo, cioè la media del ricavato totale nei cinque lanci sia nulla?

• ESERCIZIO n.9 a- Si scriva l'equazione della retta tangente al grafico determinato da $y = x \log(1 + \sin \sqrt{x})$ in $(\pi^2, 0)$.

b- Si scriva l'equazione del piano tangente alla superficie immagine di $(s, t) \mapsto (s \cos t, s \sin t, t)$ nel punto $(1, 1, \frac{\pi}{4})$.

c- Si scriva l'equazione del piano tangente alla regione definita da $x \cdot y \cdot z = 2$ nel punto $(2, 1, 1)$.

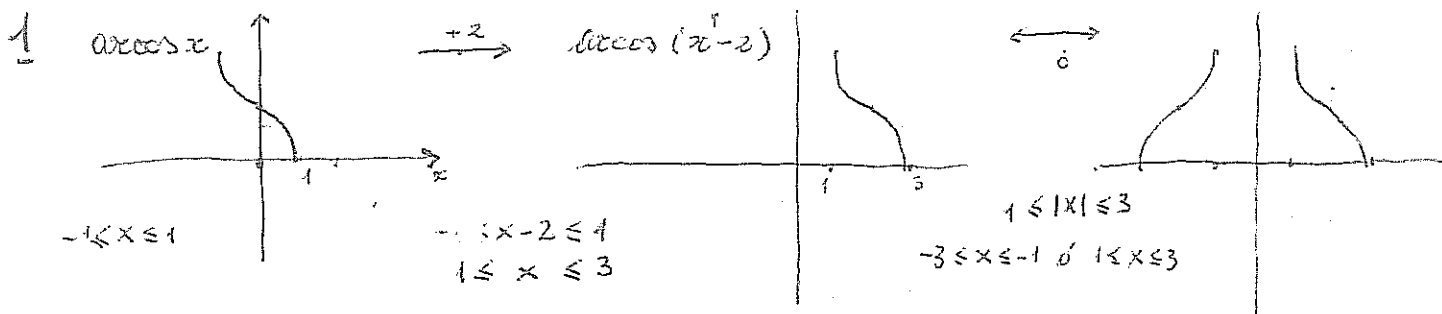
ESERCIZIO n.10 a- Si calcoli il limite di $\frac{x + \log(1 - \sin x)}{1 - \cos x}$ per $x \rightarrow 0$.

b- Si calcoli il polinomio di Taylor del secondo ordine e centro $(0, 1)$ della funzione $f(x, y) = e^{xy}$.

ESERCIZIO n.11 Si calcoli la primitiva di $e^{-\sqrt{x+1}}$.

• ESERCIZIO n.12 a- Si calcoli il volume della regione definita da $0 \leq z \leq x^2 y \leq y^2 \leq x$.

b- Si calcoli l'area della superficie ottenuta dalla rotazione, attorno all'asse orizzontale, del grafico determinato da $y = x^3$, $0 < x < 1$.



2 a $z^2 - 2iz + i = 0$ $z \in \frac{2i \pm \sqrt{-4 - 4i}}{2} = i \pm \sqrt{-1 - i} = i + \sqrt[4]{2} \sqrt{-\frac{1}{\sqrt{2}} - \frac{i}{\sqrt{2}}} =$

$= i + \sqrt[4]{2} \sqrt{\cos\frac{5\pi}{4} + i \sin\frac{5\pi}{4}} = i + \sqrt[4]{2} \left\{ \cos\frac{5\pi}{8} + i \sin\frac{5\pi}{8}, \cos\left(\frac{5\pi}{8} + \pi\right) + i \sin\left(\frac{5\pi}{8} + \pi\right) \right\}$

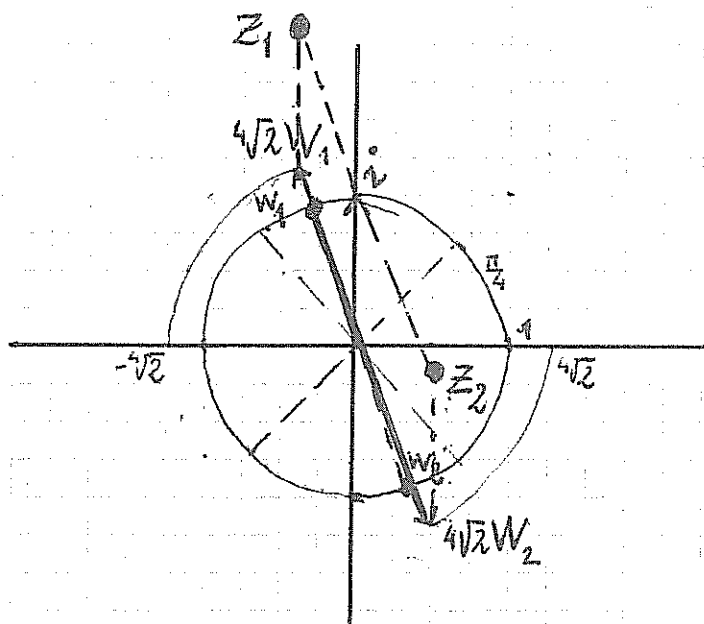
$z_1 = \sqrt[4]{2} \cos\frac{5\pi}{8} + i(1 + \sqrt[4]{2} \sin\frac{5\pi}{8}) = i + \sqrt[4]{2} w_1$

$w_1^2 = -\frac{1}{\sqrt{2}} - \frac{i}{\sqrt{2}}$

$z_2 = \sqrt[4]{2} \cos\frac{13\pi}{8} + i(1 + \sqrt[4]{2} \sin\frac{13\pi}{8}) = i + \sqrt[4]{2} w_2$

$w_2^2 = -\frac{1}{\sqrt{2}} - \frac{i}{\sqrt{2}}$

2 b



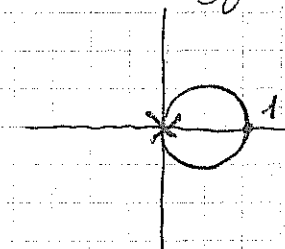
3 $\rho = \sqrt{x^2 + y^2}$ $x = \rho \cos\varphi$ $y = \rho \sin\varphi$ $\{(x, y) : \rho = \cos\varphi\} =$

$= \{(x, y) : \rho^2 = \rho \cos\varphi \text{ e } \rho \neq 0\} = \{(x, y) : x^2 + y^2 = x \text{ e } x \neq 0\}$

$= \{(x, y) : x^2 - x + y^2 = 0 \text{ e } x \neq 0\} = \text{quadratura} =$

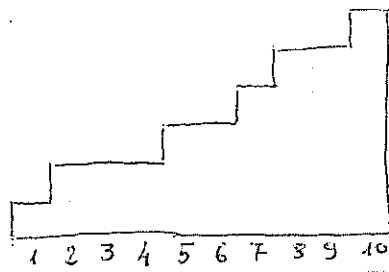
$= \{(x, y) : (x - \frac{1}{2})^2 + y^2 = \frac{1}{4} \text{ e } x \neq 0\} = \{(x, y) : \text{dist}(z, \frac{1}{2}) = \frac{1}{2}, x \neq 0\}$

le circonferenze di raggio $\frac{1}{2}$ centro $(\frac{1}{2}, 0)$ tranne $(0, 0)$

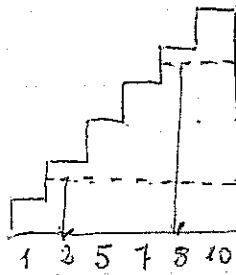


4

Il diagramma della ripartizione sui valori in considerazione



corrisponde al seguente diagramma cumulativo delle frequenze sui valori effettivi



quindi il campione è

$$\begin{array}{ll} x_1 = 1 & x_4 = 7 \\ x_2 = 2 & x_5 = 8 \\ x_3 = 5 & x_6 = 10 \end{array}$$

di numerante $\bar{6}$, poiché $6 \cdot \frac{1}{4}$ non è intero così come $6 \cdot \frac{3}{4}$

$$\text{valori di primo quartile} = X_{\lceil \frac{6}{4} + 1 \rceil} = X_2 = 2$$

$$\text{valori di ultimo quartile} = X_{\lfloor \frac{6 \cdot 3}{4} + 1 \rfloor} = X_8 = 8$$

Le frequenze relative sono tutte $\frac{1}{6}$ quindi la media è

$$\frac{x_1 + x_2 + x_3 + x_4 + x_5 + x_6}{6} = \frac{1 + 2 + 5 + 7 + 8 + 10}{6} = \frac{33}{6} = \frac{11}{2}$$

5 a Il vettore normale ad una retta ruotato in senso antiorario di un angolo α rispetto ad un'altra retta e il ruotato parimenti di un vettore normale e quest'ultima

quindi tenendo presente che

$$\bullet \text{ ruotato per } \alpha \text{ di } (a, b) = \begin{pmatrix} a \cos \alpha - b \sin \alpha \\ a \sin \alpha + b \cos \alpha \end{pmatrix} \text{ in senso antiorario}$$

che i coefficienti dell'equazione di una retta sono le coordinate di un vettore ad esse ortogonale

$$(1, 2) \text{ è ortogonale a } x + 2y = 3$$

si ha che

$$\left(\cos \frac{\pi}{3} - 2 \sin \frac{\pi}{3}, \sin \frac{\pi}{3} + 2 \cos \frac{\pi}{3} \right) = \left(\frac{1}{2} - \sqrt{3}, \frac{\sqrt{3}}{2} + 1 \right)$$

è ortogonale alle rette cercate che quindi avrà equazione del tipo

$$\left(\frac{1}{2} - \sqrt{3} \right) x + \left(\frac{\sqrt{3}}{2} + 1 \right) y = c \quad \text{ed imponendo due punti per } (1, -4)$$

$$\left(\frac{1}{2} - \sqrt{3} \right) x + \left(\frac{\sqrt{3}}{2} + 1 \right) y = \frac{3}{2} - 13\sqrt{3}$$

5b I comini $t \mapsto (t, t+1, 2t) = t(1, 1, 2) + (0, 1, 0)$
 $t \mapsto (3t-3, t, 2t-2) = t(3, 1, 2) + (-3, 0, -2)$

sono rette parallele rispettivamente a

$V = (1, 1, 2)$ $W = (3, 1, 2)$

quindi un vettore ortogonale di lunghezza 1 è

$$\frac{V \times W}{|V \times W|} = \frac{\begin{pmatrix} 1 & 3 \\ 1 & 1 \\ 2 & 2 \end{pmatrix}}{|V \times W|} = \frac{(\det \begin{pmatrix} 1 & 1 \\ 2 & 2 \end{pmatrix}), -\det \begin{pmatrix} 1 & 3 \\ 2 & 2 \end{pmatrix}, \det \begin{pmatrix} 1 & 3 \\ 1 & 1 \end{pmatrix})}{|V \times W|} =$$

$$= \frac{(0, 4, -2)}{\sqrt{0^2 + 4^2 + 2^2}} = (0, \frac{2}{\sqrt{5}}, -\frac{1}{\sqrt{5}})$$

6a Combinazioni con ripetizione a $8 = N$ persone di $5 = M$ oggetti

$$\binom{8+5-1}{8-1} = \binom{12}{7} = \frac{12 \cdot 11 \cdot 10 \cdot 9 \cdot 8}{5 \cdot 4 \cdot 3 \cdot 2} = \frac{2 \cdot 11 \cdot 10 \cdot 9 \cdot 8}{5 \cdot 4} =$$

$$= \frac{2 \cdot 11 \cdot 10 \cdot 9 \cdot 2}{5} = 11 \cdot 9 \cdot 8 = 792$$

a queste vanno tolte gli 8 casi in cui si devono tutte le caramelle ad un sol bimbo

La risposta è quindi 784.

6b la probabilità (ordinando i dadi) di ottenere le sequenze $(6, 6, 3, *, *)$ è $(\frac{1}{6})^3 (\frac{5}{6})^2$

quindi la probabilità di ottenere un "anagramma" di tale sequenza è P , numero di anagrammi essendo eventi incompatibili

$$P = \frac{5!}{2! 2! 6^5} = \frac{5 \cdot 4 \cdot 3 \cdot 2}{2 \cdot 2} \cdot \frac{25}{6^5} = \frac{5^3}{6^4} = \frac{125}{1296} \sim 0,0965$$

Oppure usando direttamente la distribuzione multinomiale

$$\binom{5}{2} \binom{3}{1} \frac{1}{6^2} \cdot \frac{1}{6} \cdot (\frac{5}{6})^2 = \frac{5!}{2! 3!} \cdot 3 \cdot \frac{1}{6^3} (\frac{5}{6})^2 = \frac{5!}{2! 2!} \frac{5^2}{6^5}$$

7-a Poiché gli eventi possibili sono 36

$$P(X \text{ pari e } Y \text{ pari}) = \frac{3 \cdot 3}{36} = \frac{9}{36} = \frac{1}{4} = \frac{1}{2} \cdot \frac{1}{2} = P(X \text{ pari}) P(Y \text{ pari})$$

SI

- b $P(X+Y=3) = P(X=1 \text{ e } Y=2) \cup P(X=2 \text{ e } Y=1) = P(X=1 \text{ e } Y=2) + P(X=2 \text{ e } Y=1) =$

$$= \frac{2}{36} = \frac{1}{18} \quad P(X+Y=3 \text{ e } X \text{ pari}) = P(X+Y=3 \text{ e } X=2) = \frac{1}{36} = \frac{1}{2} \cdot \frac{1}{18} =$$

$$= P(X \text{ pari}) \cdot P(X+Y=3) \quad \text{SI}$$

- c SI

- d $P(X \text{ pari e } Y \text{ pari e } X+Y=3) = 0 \quad P(A)P(B)P(C) = \frac{1}{4} \cdot \frac{1}{18} = \frac{1}{72}$

8.a Il valore medio della somma dei risultati X_1, X_2, X_3, X_4, X_5 dei cinque lanci

$$\begin{aligned} \langle X_1 + X_2 + X_3 + X_4 + X_5 \rangle &= \text{proprietà di linearità della media} \\ &= \langle X_1 \rangle + \langle X_2 \rangle + \langle X_3 \rangle + \langle X_4 \rangle + \langle X_5 \rangle = \text{tutti i lanci hanno} \\ &= 5 \langle X_1 \rangle \quad \text{la stessa distribuzione di probabilità} \end{aligned}$$

ore $P(X_1 = k) = \frac{1}{6} \quad 1 \leq k \leq 6$ o altrimenti

$$\langle X_1 \rangle = \sum k P(X_1 = k) = \frac{1+2+3+4+5+6}{6} = \frac{21}{6} = \frac{7}{2}$$

per cui

$$\langle X_1 + X_2 + X_3 + X_4 + X_5 \rangle = \frac{35}{2} = 17,5$$

8.b Il ricavo totale è

$$R = \sum_{i=1}^5 \left(\frac{X_i}{2^{i-1}} - Q_i \right) \quad \text{imponendo } \langle R \rangle = 0$$

si ha $\langle \sum \left(\frac{X_i}{2^{i-1}} - Q_i \right) \rangle = \sum \langle \frac{X_i}{2^{i-1}} \rangle - \sum \langle Q_i \rangle =$

$$\langle X_1 \rangle \sum_{i=1}^5 \frac{1}{2^{i-1}} - \sum Q_i = \frac{7}{2} \left(\frac{1 - \frac{1}{2^5}}{\frac{1}{2}} \right) - \sum Q_i = 7 \frac{31}{32} - \sum Q_i = 0$$

$$\sum_{i=1}^5 Q_i = 7 \cdot \frac{31}{32} \approx 6,78$$

9.a Equazione retta tangente in $(x_0, f(x_0))$: $y = f'(x_0)(x - x_0) + f(x_0)$

$$f(x) = x \lg(1 + \sqrt{\sin x}), \quad x_0 = \pi^2, \quad f(x_0) = 0 \quad f'(\pi^2) = \lg(1 + \sin \pi) + \frac{\pi^2 \cdot \frac{1}{2\pi} \cos \pi}{1 + \sin \pi} = -\frac{\pi}{2}$$

$$y = -\frac{\pi}{2}x + \frac{\pi^3}{2}$$

9.b $\begin{cases} s \cos t = 1 \\ s \sin t = 1 \\ t = \frac{\pi}{4} \end{cases} \Leftrightarrow \begin{cases} s = \sqrt{2} \\ t = \frac{\pi}{4} \end{cases}; (1, 1, \frac{\pi}{4}) = (s \cos t, s \sin t, t) \Big|_{s=\sqrt{2}, t=\frac{\pi}{4}}$ Se non paralleli

i vettori delle derivate parziali determinano il piano tangente come giacitura

$$V = \frac{\partial}{\partial s} (s \cos t, s \sin t, t) \Big|_{s=\sqrt{2}, t=\frac{\pi}{4}} = \left(\frac{1}{\sqrt{2}}, \frac{1}{\sqrt{2}}, 0 \right) \quad W = \frac{\partial}{\partial t} (s \cos t, s \sin t, t) \Big|_{s=\sqrt{2}, t=\frac{\pi}{4}} = (-1, 1, 1)$$

$$V \times W = \left(\det \begin{pmatrix} \frac{1}{\sqrt{2}} & 1 \\ 0 & 1 \end{pmatrix}, -\det \begin{pmatrix} \frac{1}{\sqrt{2}} & 1 \\ 0 & 1 \end{pmatrix}, \det \begin{pmatrix} \frac{1}{\sqrt{2}} & 1 \\ 1 & 1 \end{pmatrix} \right) = \left(\frac{1}{\sqrt{2}}, -\frac{1}{\sqrt{2}}, \sqrt{2} \right) \text{ quindi}$$

l'equazione del piano tangente in $(1, 1, \frac{\pi}{4})$ sarà del tipo $\frac{x}{\sqrt{2}} - \frac{y}{\sqrt{2}} + z\sqrt{2} = c$
imponendo che passi per $(1, 1, \frac{\pi}{4})$ sarà $c = \frac{\sqrt{2}\pi}{4}$; $x - y + 2z = \frac{\pi}{2}$

9.b L'ortogonale alla regione $\{(x, y, z) : xyz = 2\}$ in $(2, 1, 1)$

è dato (e non nullo) del gradiente $\left(\frac{\partial xyz}{\partial x}, \frac{\partial xyz}{\partial y}, \frac{\partial xyz}{\partial z} \right) \Big|_{x=2, y=1, z=1} =$

$$= (yz, xz, xy) \Big|_{x=2, y=1, z=1} = (1, 2, 2) \text{ quindi il piano sarà del tipo } x + 2y + 2z = c \text{ imponendo che passi per } (2, 1, 1): c = 6$$

$$\begin{aligned}
 10. a \quad \frac{x + \log(1 - \sin x)}{1 - \cos x} &= \frac{x + \log(1 - x + \frac{x^3}{6} + O(x^5))}{\frac{x^2}{2} + O(x^4)} \\
 &= \frac{\cancel{x} - \cancel{x} + \frac{x^3}{6} + O(x^5) - \frac{1}{2}(-x + O(x^3))^2 + O(x^3)}{\frac{x^2}{2} + O(x^4)} \\
 &= \frac{-\frac{1}{2}x^2 + O(x^3)}{\frac{x^2}{2} + O(x^4)} \rightarrow -1
 \end{aligned}$$

$$\begin{aligned}
 10. b \quad f(x, y) &= f(0, 1) + \frac{\partial f}{\partial x}(0, 1)x + \frac{\partial f}{\partial y}(0, 1)(y-1) \\
 &+ \frac{\partial^2 f}{\partial x \partial y}(0, 1)x(y-1) + \frac{1}{2} \frac{\partial^2 f}{\partial x^2}(0, 1)x^2 + \frac{1}{2} \frac{\partial^2 f}{\partial y^2}(0, 1)(y-1)^2 + \\
 &+ o(x^2 + (y-1)^2) \quad (x, y) \rightarrow (0, 1)
 \end{aligned}$$

$$\begin{aligned}
 f(x, y) = e^{xy} \quad \frac{\partial f}{\partial x} &= ye^{xy} \quad \frac{\partial f}{\partial y} = xe^{xy} \quad \frac{\partial^2 f}{\partial x \partial y} = e^{xy} + xy e^{xy} \\
 \frac{\partial^2 f}{\partial x^2} &= y^2 e^{xy} \quad \frac{\partial^2 f}{\partial y^2} = x^2 e^{xy}
 \end{aligned}$$

$$f(0, 1) = 1 \quad \frac{\partial f}{\partial x} = 1 \quad \frac{\partial f}{\partial y} = 0 \quad \frac{\partial^2 f}{\partial x^2} = 1 \quad \frac{\partial^2 f}{\partial y^2} = 0 \quad \frac{\partial^2 f}{\partial x \partial y} = 1$$

$$1 + x + \frac{x^2}{2} + x(y-1) = 1 + \frac{x^2}{2} + xy$$

altro metodo

$$e^t = 1 + t + \frac{t^2}{2} + o(t) \quad t \rightarrow 0$$

$$e^{xy} = 1 + xy + \frac{x^2 y^2}{2} + o(x^2 y^2) \quad xy \rightarrow 0$$

$$\text{ma } o(x^2 y^2) \subseteq o(x^2) \text{ se } (x, y) \rightarrow (0, 1)$$

$$\text{e } o(x^2) \subseteq o(x^2 + (y-1)^2) \text{ se } (x, y) \rightarrow (0, 1)$$

$$= 1 + xy + \frac{x^2((y-1)+1)^2}{2} + o(x^2 + (y-1)^2) \quad (x, y) \rightarrow (0, 1)$$

$$= 1 + xy + \frac{x^2}{2} + x^2(y-1) - \frac{x^2(y-1)^2}{2} + o(x^2 + (y-1)^2)$$

$$= 1 + xy + \frac{x^2}{2} + o(x^2 + (y-1)^2)$$

$$11. \quad \int e^{-\sqrt{x+1}} dx \quad y = \sqrt{x+1} \quad dy = \frac{dx}{2\sqrt{x+1}} \quad dx = 2y dy$$

$$\int 2ye^{-y} dy = -2ye^{-y} - \int 2(-e^{-y}) dy = -2ye^{-y} - 2e^{-y} + c$$

$$= -2\sqrt{x+1} e^{-\sqrt{x+1}} - 2e^{-\sqrt{x+1}} + c$$

$$12a \quad \{(x, y, z) : 0 \leq z \leq x^2 y \leq y^2 \leq x\} =$$

$$0 \leq x^2 y \leq y^2 \Rightarrow y \geq 0 \quad - \quad 0 \leq y^2 \leq x \Rightarrow x \geq 0$$

$$\Rightarrow x^2 \leq y \quad \quad \quad \Rightarrow |y| \leq \sqrt{x}$$

$$x^2 \leq y \leq \sqrt{x} \Rightarrow x^2 \leq \sqrt{x} \Rightarrow x \leq 1$$

= Sottografico di $f(x, y) = x^2 y$ su $x^2 \leq y \leq \sqrt{x}$ e $0 \leq x \leq 1$

$$\text{Volume} = \int_0^1 \left(\int_{x^2}^{\sqrt{x}} x^2 y \, dy \right) dx =$$

$$= \int_0^1 x^2 \left(\int_{x^2}^{\sqrt{x}} y \, dy \right) dx = \int_0^1 x^2 \left(\frac{y}{2} - \frac{y^2}{2} \right) dx =$$

$$= \int_0^1 \left(\frac{x^3}{2} - \frac{x^5}{2} \right) dx = \frac{1}{8} - \frac{1}{14} = \frac{7-4}{56} = \frac{3}{56}$$

12b

Area rotazione di un grafico attorno all'origine

$$\text{della curva} = 2\pi \int f(x) \sqrt{1 + (f'(x))^2} dx = [f(x) = x^3]$$

$$= 2\pi \int_0^1 x^3 \sqrt{1 + 9x^4} dx \quad \begin{matrix} y = x^4 \\ dy = 4x^3 dx \end{matrix}$$

$$= \frac{2\pi}{4} \int_0^1 \sqrt{1 + 9y} dy = \frac{\pi}{2} \frac{2}{9} \left[(1 + 9y)^{\frac{3}{2}} \right]_0^1 =$$

$$= \frac{\pi}{27} [10^{\frac{3}{2}} - 1]$$